

1. Vypočítej neznámé číslo:

___ = 60 + 13

___ = 150 + 300

___ = 160 - 150

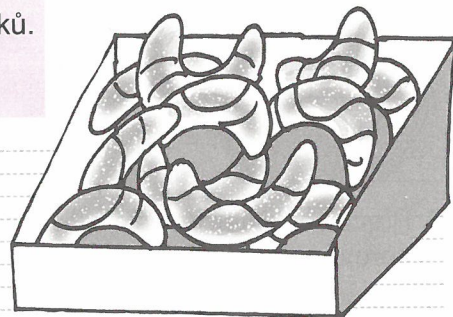
___ = 144 - 9

2. V pekařství měli ráno 366 rohlíků a za celý den prodali 294 rohlíků.
Kolik rohlíků jim zbylo večer?
 (Zvol si označení pro neznámé číslo a úlohu zapiš.)

Výpočet:

.....

Odpověď:




3. Dopoledne prodali v prodejně 151 kg pomerančů, odpoledne prodali 208 kg pomerančů.
Kolik kg pomerančů prodali za celý den?

Výpočet:

.....

Odpověď:



4. Vymysli slovní úlohy k následujícím zápisům a úlohy vyřeš:

a) ___ + 40 = 152

Zadání úlohy:

.....

Výpočty:

Odpověď:

b) 1 000 + ♥ = 10 000

Zadání úlohy:

.....

Výpočty:

Odpověď:

5. Doplň čísla v číselné řadě:

5 889, _____, _____, _____, _____, 5 894, _____, _____, 5 897

10 000, _____, _____, _____, _____, 9 995, _____, _____, 9 992

4 000, 4 500, 5 000, _____, _____, 6 500, _____, _____, 8 000

9 999, 9 899, 9 799, _____, _____, 9 499, _____, _____, 9 199

1. Zvířata v zoologické zahradě spotřebovala 368 kg banánů, 549 kg jablek, 471 kg mrkve a 113 kg zelí.
Kolik kg ovoce spotřebovala? Kolik kg zeleniny spotřebovala?
 Oba součty ústně porovnej, vytvoř si otázku a odpověz na ni.



Výpočet:

Odpověď:

Odpověď:

2. Babičce na zahradě rozkvetlo 146 tulipánů. Za několik dní jich 32 uvadlo a 57 nových tulipánů rozkvetlo. **Kolik potom kvetlo v zahradě tulipánů?**



Výpočet:

Odpověď:

3. Maminka měla ve spíži 295 sklenic zavařenin. V únoru spotřebovala 67 sklenic a v březnu 58 sklenic. **Kolik sklenic zavařenin spotřebovala v dubnu, když 1. května zbylo ve spíži 100 sklenic?**

Výpočet:

Odpověď:

4. Vypočítej (počítej výhodně):

$$1\ 500 - (63 + 71 + 520) = \underline{\hspace{2cm}}$$

$$640 + (79 + 82 + 120) = \underline{\hspace{2cm}}$$

$$3\ 000 - (950 + 50 + 2\ 000) = \underline{\hspace{2cm}}$$

$$(11 + 190 + 300) + 620 = \underline{\hspace{2cm}}$$

$$(37 + 85 + 49) - 51 = \underline{\hspace{2cm}}$$

5. Adam má narozeniny v pondělí, Eva o 66 dní později. **Který den v týdnu to bude?**

Výpočet: (1 týden = 7 dní)

Odpověď:

6. Děti sbíraly starý papír, aby měly na příspěvek do ZOO pro opičku Maju. Děti ze 4. A odvezly do sběrný 10 548 g papíru, ve 4. B nasbíraly děti dvakrát méně papíru než ve 4. A. **Kolik gramů papíru nasbíraly děti ve 4. B? Kolik Kč dostala každá třída za papír, jestliže sběrna platila za 1 kg papíru 2 Kč?**


Výpočet:

Odpověď:

Odpověď:



1. Zvol si v centimetrové čtvercové síti libovolné čtverce (vybarvi modře) a libovolné obdélníky (vybarvi červeně). Geometrické útvary popiš s využitím velkých písmen.



Urči obvody v cm a obsahy v cm^2 všech čtverců a obdélníků. Obvody označ **O**, obsahy **S**.

Obvod:

Obsah:
